

Klasse 5a Ma (KUT) Aufgaben vom 13.01.-15.01.2021

Kontakt: ricarda.kutscher@gmx.de

Liebe Schüler,

ich hoffe, es geht euch allen gut und ihr konntet euch in den Ferien etwas erholen.

Als nächstes behandeln wir Uhrzeiten, Zeitpunkte, Zeitspannen und Weg-Zeit-Diagramme.

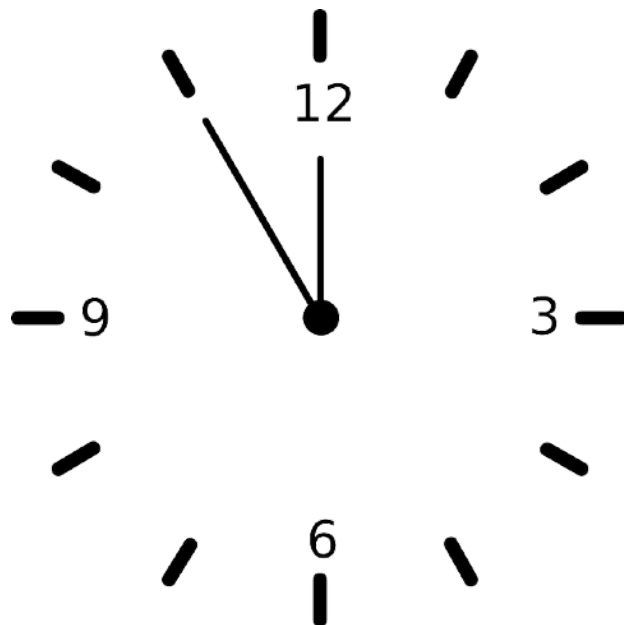
Wir wiederholen zunächst die Sachen aus der Grundschule und starten mit der Uhr und den Zeiteinheiten.

Aufgaben

Sieh dir unter dem folgenden Link das Lernvideo an:

<https://www.youtube.com/watch?v=RiCW857EXok>

Beschrifte nun das Ziffernblatt der Uhr vollständig.



Bearbeite das folgende AB.



Uhrzeit ablesen

Thema: Uhrzeit

Name: _____


Klasse: ____ Datum: _____

Uhrzeit ablesen – Gemischte Aufgaben


Aufgabe: Lies die beiden möglichen Uhrzeiten von der Uhr ab und schreibe diese auf. Viel Erfolg!




___ : ___ Uhr
___ : ___ Uhr



___ : ___ Uhr
___ : ___ Uhr




___ : ___ Uhr
___ : ___ Uhr




___ : ___ Uhr
___ : ___ Uhr




___ : ___ Uhr
___ : ___ Uhr



___ : ___ Uhr
___ : ___ Uhr




___ : ___ Uhr
___ : ___ Uhr




___ : ___ Uhr
___ : ___ Uhr




___ : ___ Uhr
___ : ___ Uhr



___ : ___ Uhr
___ : ___ Uhr



___ : ___ Uhr
___ : ___ Uhr



___ : ___ Uhr
___ : ___ Uhr

Buch

S. 79: Schreibe den blauen Kasten ab und lerne die Zeiteinheiten auswendig.