

Klasse 5a Ma (KUT) Aufgaben vom 18.01.-22.01.2021

Kontakt: ricarda.kutscher@gmx.de

Liebe Schüler,

in dieser Woche behandeln wir folgende Themen:

- Umwandeln von Zeiteinheiten
- Zeitpunkt und Zeitspanne

Bearbeitet bitte folgenden Wochenplan. Die ☆Aufgaben sind freiwillig. Bitte schickt mir die rot markierten Aufgaben bis zum 22.01.2021.

	AB 1	
•	Buch, S.79 Nr. 2, 3 a,b,c	Abgabe bis 22.01.
☆	Buch, S.79 Nr. 3 d, 4	
	AH, S. 25 Nr. 1,2,3,4,5,6	
	Schau dir diese Videos an. Beachte, dass Zeitdauer das gleiche bedeutet wie Zeitspanne. https://www.youtube.com/watch?v=ydPzjhFPAs8 https://www.youtube.com/watch?v=x5mMRFY7AjQ	
	S. 81 Schreibe den blauen Kasten mit den Beispielen in dein Heft.	
•	Buch, S. 80 Nr. 2	Abgabe bis 22.01.
☆	Buch, S. 80 Nr. 3	
•	AB 2	Abgabe bis 22.01.

1. Ordne zu.



- 60 s
- 60 min
- 24 h

2. Ordne die passenden Zeitangaben zu.

- Klassenfahrt _____
- 100-Meter-Lauf _____
- Unterrichtsstunde _____
- Musikstück _____
- Kinofilm _____

- 15 s
- 1 h 50 min
- 3 min 40 s
- 5 Tage
- 45 min

3. Wie viele Stunden sind es?

- a) 2 Tage = _____ h b) 10 Tage = _____ h c) 5 Tage = _____ h d) 7 Tage = _____ h

4. Wie viele Minuten sind es?

- a) 3 h = _____ min b) 5 h = _____ min c) 4 h = _____ min d) 1h 30 min = _____ min

5. Wie viele Minuten sind es?

- a) 120 s = _____ min b) 600 s = _____ min c) 480 s = _____ min d) 660 s = _____ min

6. Wie viele Sekunden sind es?

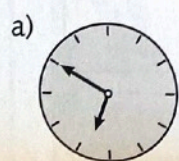
- a) 1 min = _____ s b) 6 min = _____ s c) 9 min = _____ s d) 10 min = _____ s

7. Ordne die Zeitangaben nach ihrer Dauer. Beginne mit der kürzesten Dauer.

90 min	E	2 min	C	$\frac{1}{2}$ min	O	10 s	W	1 h	H
--------	---	-------	---	-------------------	---	------	---	-----	---

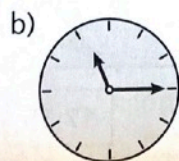
Wie heißt das Lösungswort? _____

8. Wie viele Minuten sind es bis zur nächsten vollen Stunde?



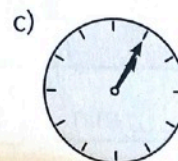
6:50 Uhr

_____ min



11:15 Uhr

_____ min



13:05 Uhr

_____ min

Zeitpunkte und Zeitspannen

1. Wie viel Zeit ist vergangen?



Von 7:45 Uhr bis 8:00 Uhr sind es
 _____ Minuten,
 von 8:00 Uhr bis 13:00 Uhr sind es
 _____ Stunden,
 von 13:00 Uhr bis 13:05 Uhr sind es
 _____ Minuten.

Schreibe so:
 7:45 Uhr bis 13:05 Uhr
 von 7:45 Uhr bis 8:00 Uhr: 15 Minuten
 von 8:00 Uhr bis 13:00 Uhr: _____ Stunden
 von 13:00 Uhr bis 13:05 Uhr: _____ Minuten

_____ Stunden _____ Minuten
 Von 7:45 Uhr bis 13:05 Uhr sind es _____ Stunden und _____ Minuten.


2. Zeichne die Zeiger ein. Wie viel Zeit ist vergangen?

Nadine fährt
 um 15:00 Uhr
 los zum Training.

Den Sportplatz
 erreicht sie
 um 15:20 Uhr.

Das Training ist
 um 17:00 Uhr
 zu Ende.

Um 17:30 Uhr
 kommt Nadine
 wieder zu Hause an.

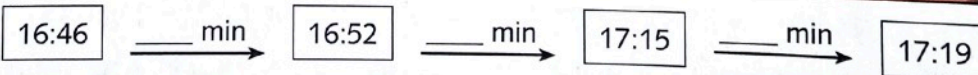


A: _____

3.

Anfang	9:00 Uhr	9:45 Uhr	12:30 Uhr	15:55 Uhr	19:47 Uhr	
Dauer	55 min	30 min	1 h 20 min			1 h 15 min
Ende				17:00 Uhr	21:57 Uhr	19:15 Uhr

4. Wie viel Zeit ist insgesamt vergangen?



A: _____